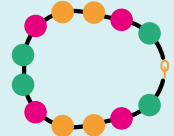


1


Hvilket bilde viser en bit av halsbåndet?



2

Hvor mange blomster ligger innenfor sirkelen, men utenfor trekanten?

(A) 19 (B) 17 (C) 10 (D) 9 (E) 8



3

I en barnehage er det 14 jenter og 12 gutter. En dag er halvparten av barna ute på tur.

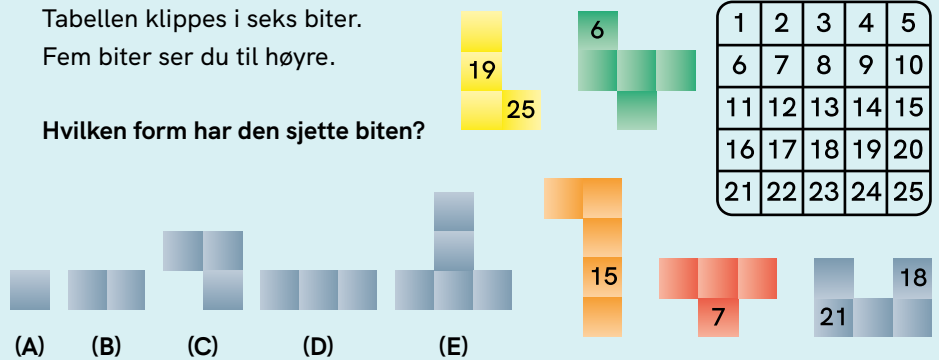
Hvor mange jenter må det minst være blant barna som går på tur?

(A) 13 (B) 7 (C) 6 (D) 2 (E) 1

4

Tabellen klippes i seks biter. Fem biter ser du til høyre.

Hvilken form har den sjette biten?



5

Simon vil skrive ett siffer i hver rute. Han må bruke sifrene 2, 0, 1 og 9. Han vil at summen skal bli høyest mulig.

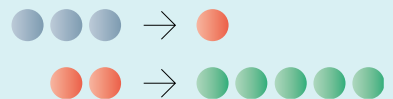


Hvilket siffer må Simon skrive i ruta med spørsmålsteget?

6

Molly har 16 blå klinkekuler. Hun kan bytte kuler på to måter:

- 3 blå kuler mot 1 rød kule
- 2 røde kuler mot 5 grønne kuler



Hva er det største antall grønne klinkekuler Molly kan bytte til seg?

(A) 2 (B) 3 (C) 4 (D) 8 (E) 10